



蘭博蒐查線 2.0

20^個

蘭博必看
推薦主題

重點 收錄

A 卷



蘭陽博物館
LANYANG MUSEUM

請從地圖中找出每一個編號所展示的主題，並且回答底下的問題，然後把編號和答案寫在答案卡上。

4F 山之層

《迷霧森林》

枯倒木



- ◎ 枯倒木裡可儲存什麼，有助減少大氣中的溫室氣體？
 (A) 一氧化碳 (B) 二氧化碳
 (C) 氧氣

攀木蜥蜴



- ◎ 攀木蜥蜴的尾巴具有什麼功能？(A) 保持平衡 (B) 斷尾求生 (C) 以上皆是。

思源埡口



- ◎ 為什麼思源埡口會成為「物種的百寶箱」？
 (A) 位在不同氣候的分界點
 (B) 宗教團體常去那裡放生

4F 山之層

《山林與人》

伐樟製腦



- ◎ 模型中的工人正在做的事，不包含哪一個？(A) 蒸餾 (B) 防衛 (C) 買賣

太平山林業



- ◎ 在太平山林業這座模型中，總共有幾個工作人員呢？
 (A) 27人 (B) 24人 (C) 22人



3F 平原層

《族群與拓墾》

周舉人宅



- ◎ 周舉人宅牆上的槍孔內寬外窄，所以哪一邊是屋內？
 (A) 泰雅人那一邊
 (B) 搶孤模型那一邊

紋面



- ◎ 泰雅紋面的工具中，哪一種共展示了五支？(A) 木錘 (B) 刺刷 (C) 刮血棒

噶瑪蘭人賣地契約



- ◎ 玻璃櫃裡有兩張土地契約，它們的簽訂年代都在何時？
 (A) 清 同治 (B) 清 康熙
 (C) 清 光緒

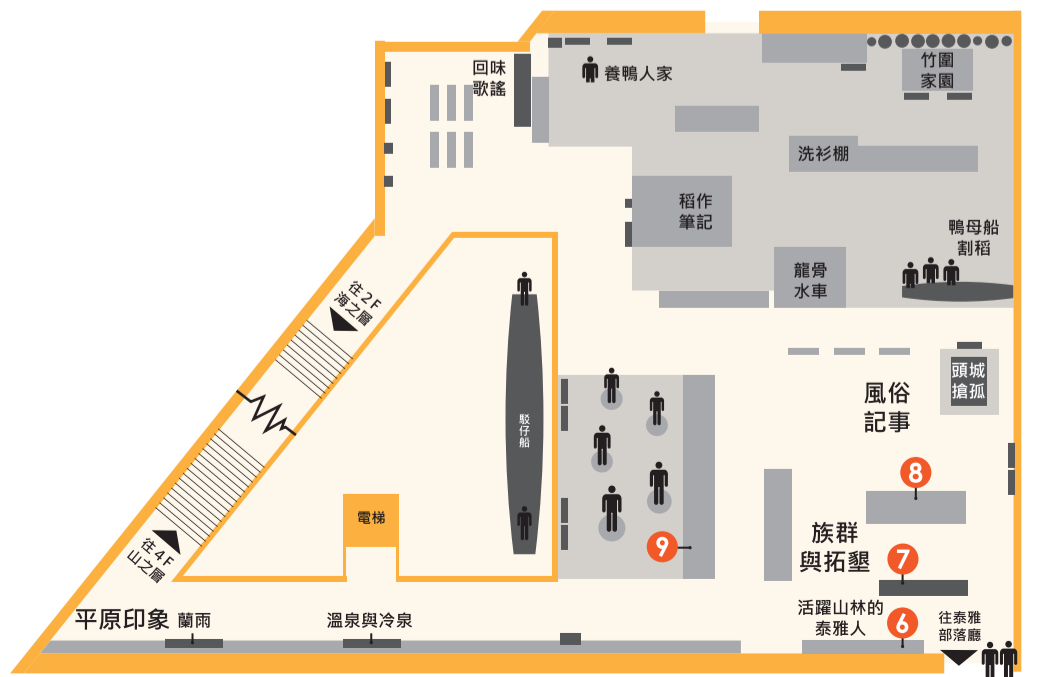
3F 平原層

《昔日河運》

宜蘭城



- ◎ 請問「湯肯」這間店是做什麼生意的？
 (A) 打鐵 (B) 賣米
 (C) 雜貨店



3F
平原層
《水與宜蘭生活》

龍骨水車



- ◎ 展場內這座龍骨水車最多可同時讓幾個人踩踏操作？
(A) 1人 (B) 2人 (C) 4人

鴨母船割稻



- ◎ 請問這艘鴨母船上載的是什麼？(A) 脫穀機 (B) 風鼓機 (C) 爆米香機

竹圍



- ◎ 請問這座縮小版的竹圍總共有幾個出入口？(A) 1個 (B) 3個 (C) 5個。

洗衫棚



- ◎ 請問影片中的小孩在洗衫棚裡做什麼？(A) 幫忙洗衣服 (B) 游泳 (C) 抓魚蝦

3F
平原層
《風俗記事》

頭城搶孤

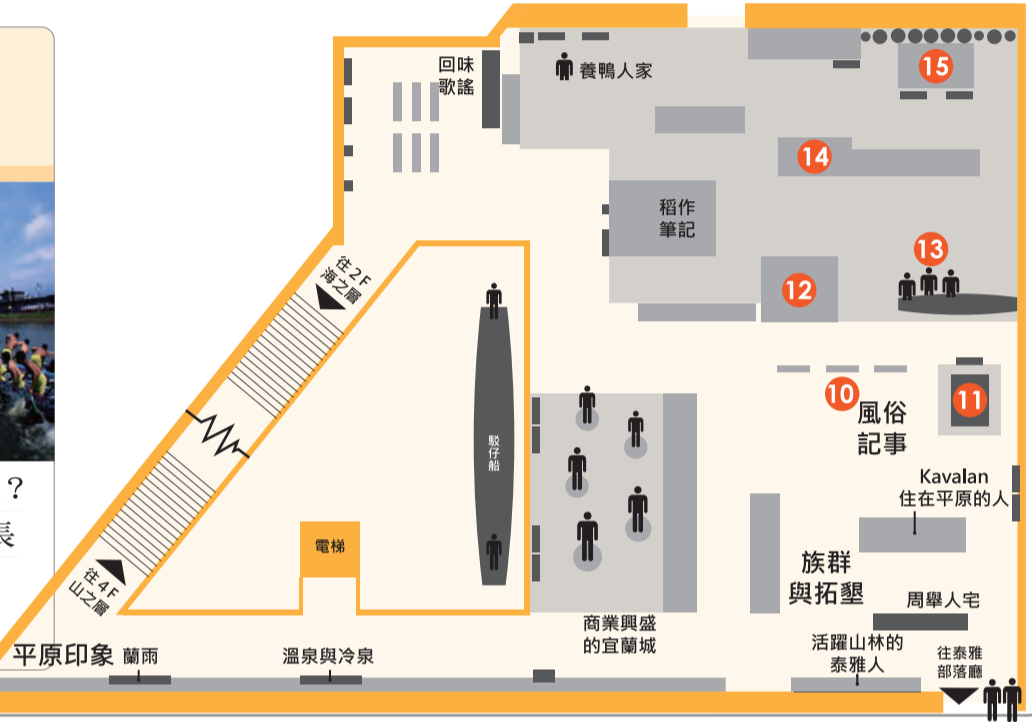


- ◎ 搶孤模型中順風旗被獲勝者鋸斷的是哪一支孤棧？
(A) 財亨首 (B) 迎祥首 (C) 天官首

二龍競渡



- ◎ 二龍競渡比賽的裁判是誰？
(A) 兩岸觀眾 (B) 兩村村長 (C) 龍船的船東



2F
海之層
《黑潮+討海人》

南風壹號



- ◎ 南風壹號上面的人沒有在做哪一件事？(A) 釣魚 (B) 鏢旗魚 (C) 撒網

鰻魚




- ◎ 哪種階段的鰻魚年紀最小？
(A) 幼鰻 (B) 柳葉鰻 (C) 鰻線(玻璃鰻)

月桃索



- ◎ 為什麼月桃編成的繩索現在很少使用了？(A) 壽命短，必須時常更換 (B) 有更耐用的材質出現 (C) 以上皆是

宜蘭海底祕密



- ◎ 蘭陽平原是由哪一個海槽張裂後再沖積所形成的？(A) 沖繩海槽 (B) 琉球海槽 (C) 北呂宋海槽

2F
海之層
《親水的民族》

噶瑪蘭海祭



- ◎ 哪一項不是噶瑪蘭人海祭所使用的祭品？(A) 紅龜粿 (B) 豬肝 (C) 酒

